

令和3年度

奈良県公立高等学校入学者一般選抜学力検査問題

社 会

注 意

- 1 指示があるまで開いてはいけません。
- 2 解答用紙には、受検番号を忘れないように書きなさい。
- 3 解答用紙の※印のところには、何も書いてはいけません。
- 4 答えは必ず解答用紙に書きなさい。

1

令子さんと和人さんのクラスでは、古代から近代の日本の歴史について、班ごとに各時代の特色を明らかにすることにしました。次の写真や絵は、各班がそれぞれ集めた資料の一部であり、 内は、今後の学習活動の見通しを示したものである。各問いに答えよ。

<p>[古代]</p> <div style="border: 1px dashed black; padding: 10px; text-align: center;">銅鏡の写真</div> <p>奈良県で出土した銅鏡の写真である。銅鏡の中にはA中国から贈られたものもある。中国と日本の関係から、古代について調べていく。</p>	<p>[中世]</p> <div style="border: 1px dashed black; padding: 10px; text-align: center;">武芸に励む武士の様子を示した絵</div> <p>武芸に励む武士を描いた絵である。中世の資料には、B武士が登場する場面が見られる。武士の活躍から、中世について調べていく。</p>
<p>[近世]</p> <div style="border: 1px dashed black; padding: 10px; text-align: center;">打ちこわしの様子を示した絵</div> <p>打ちこわしの様子を描いた絵である。幕府がさまざまな改革を行うも、打ちこわしはたびたび起きた。C幕府の政策から、近世について調べていく。</p>	<p>[近代]</p> <div style="border: 1px dashed black; padding: 10px; text-align: center;">ラジオの前に集まる家族の写真</div> <p>ラジオの前に集まる家族の写真である。人々の生活様式には大きな変化が見られた。D人々の生活や文化から、近代について調べていく。</p>

- (1) 下線部Aの歴史書には、ある国が邪馬台国の卑弥呼に対して金印や銅鏡を与えたとある。この国の名称は何か。次のア～エから1つ選び、その記号を書け。

ア 秦 イ 魏 ウ 隋 エ 唐

- (2) 令子さんの班は、下線部Bについて調べた。

- ① 資料Iは、承久の乱において、北条政子が御家人に発したとされる言葉を要約したものの一部である。資料I中の——線部「御恩」に対する奉公として、政子が御家人に求めた行動を簡潔に書け。

- ② 資料IIは、足利義政が建てた銀閣と同じ敷地にある東求堂同仁齋の写真である。この資料に見られるような室内の特徴をもつ建築様式を何というか。その名称を書け。

- ③ 戦国時代になると、領国の産業発展のために鉱山の開発に力を入れる戦国大名もいた。石見銀山は、戦国大名が保護した商人により開発された鉱山の一つである。石見銀山の位置を略地図中のア～エから1つ選び、その記号を書け。

[資料I]

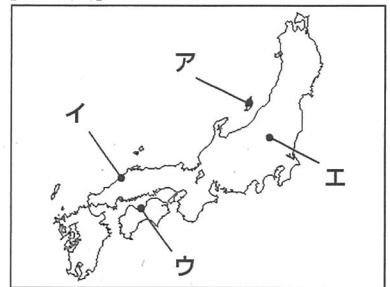
みなのもよく聞きなさい。これが最後の言葉である。亡き頼朝公が朝廷の敵を倒し、幕府を開いてから、その御恩は山よりも高く、海よりも深い。この御恩に報いる心が浅くてよいはずがない。

(「吾妻鏡」より作成)

[資料II]



[略地図]



- (3) 和人さんの班は、下線部Cについて、幕府のリーダーが行った取り組みをそれぞれメモにまとめた。次の 内は、そのとき作成したメモである。

<a 徳川吉宗が行った取り組み>
・幕府の支出が増えたため、質素
・節約を命じて、出費を減らそう
とした。また、b 庶民の意見
を取り入れる目安箱を設置した。

<松平定信が行った取り組み>
・c 天明のききんによる社会の混
乱を抑え、幕府財政の立て直し
をはかろうとした。また、庶民
の生活にも厳しい統制を加えた。

<水野忠邦が行った取り組み>
・物価上昇を抑えるために、株仲
間を解散させた。また、日本沿
岸に接近するd 外国船に対する
強硬な方針を改めた。

① 波線部 a が、メモに書かれたこと以外に行ったことについて述べた文として適切なものを、次のア～エからすべて選び、その記号を書け。

- ア 裁判の基準となる公事方御定書を定めた。 イ 外交方針を批判した高野長英らを処罰した。
ウ 漢訳された洋書の輸入の制限をゆるめた。 エ 動物愛護を定めた生類憐みの令を出した。

② 波線部 b の間にも教育への関心が高まり、子どもたちが読み・書 [資料Ⅲ]

き・そろばんを学ぶことのできる施設が開かれるようになった。資料Ⅲは、子どもたちが学んでいる様子を描いたものである。このような庶民教育の施設を何というか。その名称を書け。

寺子屋で子どもたちが学んでいる様子を
示した絵

③ 次の [] 内は、和入さんたちが寛政の改革についてまとめたものである。また、資料Ⅳは、波線部 c とその前後の期間における、1年当たりの幕府領の年貢収納量を示したものである。 [] 内の (X) に当てはまる言葉を、資料Ⅳを参考にして、簡潔に書け。

天明のききんと呼ばれる全国的なききんが起きたことで、農村が荒廃し、百姓一揆や打ちこわしが多発した。松平定信は、寛政の改革において農村を復興させようとした。なぜなら農村が復興することで、 (X) ため、幕府の財政を立て直すことにつながるからだ。

[資料Ⅳ]

	1年当たりの幕府領の年貢収納量
天明のききん前の期間 (1777～1781年)	約150万石
天明のききんの期間 (1782～1787年)	約135万石
寛政の改革後の期間 (1794～1798年)	約154万石

(「日本史辞典」より作成)

④ 水野忠邦は波線部 d を、燃料のまきや水などを与えて退去させる穏便な方針に改めた。この改定のきっかけとなったアジアでの出来事について、関係する2つの国名を示しながら、簡潔に書け。

(4) 近代以降、欧米から新しい文化や考え方が流入し、下線部 D は大きく変化した。近代以降の人々の生活や文化について述べた次のア～ウを、年代の古いものから順に並べかえて記号で書け。

- ア 発行部数が100万部をこえる新聞が現れ、1冊1円の円本も出版された。
イ 欧米の近代思想が中江兆民らにより紹介され、人々に影響を与えた。
ウ 学校教育が普及し、義務教育は6年制となり、就学率は9割をこえた。

(5) 次の [] 内は、令子さんと和入さんが学習のまとめとして意見交換したときの会話の一部である。 [] 内の (Y) に当てはまる言葉を、幕府の定めた法令に触れながら、「統制」、 「違反」の語を用いて簡潔に書け。

令子：私たちは、武士に関するさまざまな資料を見つけ、中世は武士を中心とする時代であると考えました。
和入：私たちが調べた近世も、武士が主役だと考えました。なぜなら近世の武士はさまざまな取り組みを行い、武家政権の維持を図るとともに社会をよくしようとしたからです。
令子：中世と近世には、武士が主役という共通点があるということですね。しかし、同じ武家政権でも、中世の室町幕府の時代は混乱した期間が長かったと学びました。
和入：近世は、混乱の少ない時代でした。江戸幕府は、 (Y) ことで、全国の大名の力を抑え、安定した政権になったと言えます。
令子：他の時代との共通点や相違点に着目することで、その時代の特色が明らかになりましたね。

2

夏美さんは、社会科の授業で学習した自動車工業に興味をもち、関連することがらについて調べた。

各問いに答えよ。

- (1) 愛知県瀬戸市では、ファインセラミックスを素材とする自動車部品を製造している。この素材には、瀬戸市で生産が盛んな工芸品の生産技術が応用されている。この工芸品は何か。次のア～エから1つ選び、その記号を書け。

ア 織物 イ 漆器 ウ 陶磁器 エ 鉄器

- (2) 略地図Ⅰは、自動車工業が盛んな群馬県太田市的位置と関東地方の高速道路網の一部を示したものである。

【略地図Ⅰ】



- 太田市が位置する北関東には、内陸型の工業地域が形成されている。この地域において工業が発達している理由を、高速道路網との関係に着目して、「製品」の語を用いて簡潔に書け。

【略地図Ⅱ】

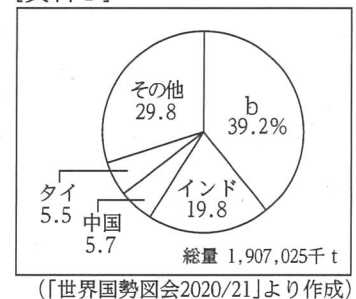


- (3) 国内で生産された自動車の一部は、名古屋からロサンゼルスへ船で輸出されている。略地図Ⅱ中において両都市を直線で結んだ-----線aの長さ、——線ア～ウの地図上の長さはそれぞれ等しい。実際の距離

を比較したとき、-----線aより長いものを、——線ア～ウから1つ選び、その記号を書け。なお、略地図Ⅱは、緯線と経線が直角に交わった地図である。

- (4) 略地図Ⅱ中の国bでは、自動車の燃料として使用されるバイオ燃料の生産が盛んである。資料Ⅰは、バイオ燃料の原料となる、ある農作物の2018年における国別生産割合を示したものである。この農作物を、次のア～エから1つ選び、その記号を書け。なお、資料Ⅰ中のbは、略地図Ⅱ中の国bを示している。

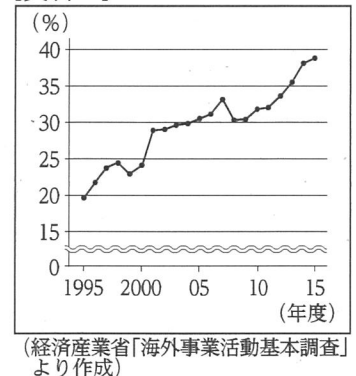
【資料Ⅰ】



ア 米 イ カカオ豆
ウ 小麦 エ さとうきび

- (5) 夏美さんは、自動車を生産する日本の企業に多国籍企業が多いことを知り、関連する資料を集めた。資料Ⅱは、海外に進出した製造業を営む日本の企業の、1995年から2015年における海外生産比率の推移を示したものである。資料Ⅱを参考にして、「産業の空洞化」とはどのような現象か、簡潔に書け。

【資料Ⅱ】



- (6) 夏美さんは、電気自動車に興味をもち、電気自動車と持続可能な社会との関わりについてレポートにまとめた。次の□内は、その一部である。


近年、環境に配慮した乗り物として、A電気自動車が注目されている。電気自動車は、ガソリン車とは異なり電気を動力源としているため、走行時に二酸化炭素を排出しない。また、太陽光やB地熱などの再生可能エネルギーを利用してつくられた電気を、電気自動車に搭載されているCリチウムイオン電池に蓄電して使用することで、持続可能な社会の実現につながることが期待されている。

① 資料Ⅲは、大分県姫島村のWebサイトに掲載されている、下線部Aを活用した観光プランの一部を示したものである。資料Ⅲのような、地域の自然環境を生かした体験活動と、環境の保全の両立を目的とした観光のあり方を何というか。その用語を書け。

[資料Ⅲ]

姫島 おすすめコース

- ・「おおいた姫島ジオパーク」で地層群の観察
- ・姫島に飛来する「アサギマダラ」の観察
- ・古事記に登場する姫島の七不思議伝説巡り



(姫島村Webサイトほかより作成)

② 資料Ⅳは、下線部Bを利用した発電を行う際に必要な資源の多い上位6か国を示したものである。また、資料Ⅴは、地熱資源が見られる場所を模式的に示したものである。資料Ⅳ中の(X)に当てはまる国を、次のア～エから1つ選び、その記号を書け。

[資料Ⅳ]

	国名	地熱資源量(万kW)
1	アメリカ	3,000
2	(X)	2,779
3	日本	2,347
4	ケニア	700
5	フィリピン	600
	メキシコ	600

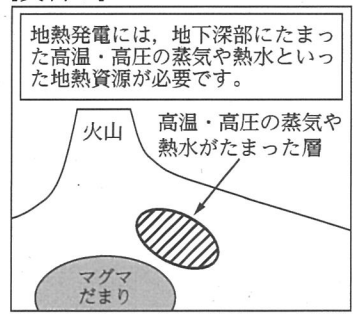
(資源エネルギー庁Webサイトより作成)

- ア インドネシア イ スウェーデン
ウ モンゴル エ オーストラリア

③ 夏美さんは、下線部Cの製造に必要な資源に関わる課題について調べ、レポートに次の 内の内容を書き加えた。 内の(Y)に当てはまる言葉を、歴史的背景に触れながら、簡潔に書け。

リチウムイオン電池の製造には、レアメタルが不可欠である。レアメタルが豊富に産出されるアフリカ州では、(Y)を国境線として使用していることもあり、一部の地域においては資源をめぐる民族対立も起こっている。このような対立は、資源の安定供給を妨げる原因となっている。

[資料Ⅴ]



(独立行政法人石油天然ガス・金属鉱物資源機構Webサイトほかより作成)

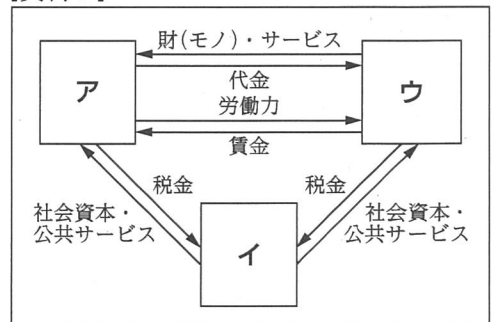
3 健太さんは、スーパーマーケットでの職場体験を通して、実際の経済活動に興味をもち、調べた。各問いに答えよ。

(1) 資料Ⅰは、経済活動における、家計、企業、政府の関係を示したものである。

① 資料Ⅰ中のア～ウは、家計、企業、政府のいずれかを [資料Ⅰ]

示している。家計に当たるものを、資料Ⅰ中のア～ウから1つ選び、その記号を書け。

② 企業の中でも、株式を発行して資金を集める会社を株式会社という。株式を購入した出資者が出席して、経営方針を決定したり、経営者を選出したりする機関を何というか。その名称を書け。



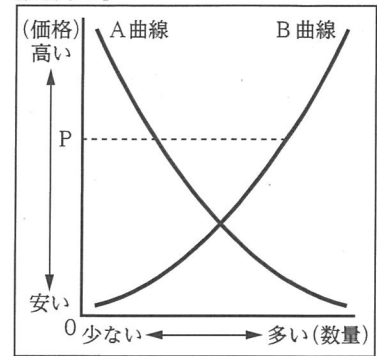
(2) 健太さんは、スーパーマーケットの入り口で、求人広告を見つけた。求人広告に記されている労働条件は、次の 内に示すような内容を定めた法律に基づいている。この法律を何というか。その名称を書け。

- ・男女同一賃金の原則 ・労働時間は週40時間、1日8時間以内 ・毎週少なくとも1回の休日

(3) 健太さんは、商品の価格がさまざまな条件によって変動することに興味をもち、調べた。

① 資料Ⅱは、市場における、ある商品の価格と需要量、供給量との関係を示したものである。資料Ⅱ中のA曲線は価格と買い手が買おうとする量との関係を、B曲線は価格と売り手が売ろうとする量との関係を示している。資料Ⅱにおいて、価格がPのときの状況とその後の価格の変化について述べた文として適切なものを、次のア～エから1つ選び、その記号を書け。

[資料Ⅱ]



- ア 需要量が供給量よりも多いため、価格は上昇する。
- イ 需要量が供給量よりも多いため、価格は下落する。
- ウ 供給量が需要量よりも多いため、価格は上昇する。
- エ 供給量が需要量よりも多いため、価格は下落する。

[資料Ⅲ]

	為替相場
2019年4月	1ドル=112円
2019年8月	1ドル=106円

(注) 4月と8月の月ごとの平均値を、小数第1位を四捨五入して示している。
(日本銀行Webサイトより作成)

② 海外から輸入される商品は、為替相場の影響を受けて、その価格が変動することがある。資料Ⅲは、2019年の4月と8月における、円とドルの為替相場を示したものである。次の□内は、健太さんが、資料Ⅲをもとに、為替相場と商品の価格の関係をまとめたメモである。□内の (a)、(b) に当てはまる語の組み合わせとして正しいものを、後のア～エから1つ選び、その記号を書け。なお、為替相場以外の影響は考えないものとする。

2019年の4月と8月の為替相場を比べると、8月は4月よりも (a) であることがわかる。例えば、日本の企業が、アメリカの企業から1個あたり5ドルのチョコレートを輸入すると、8月は4月よりも、1個あたり30円 (b) 輸入することになる。

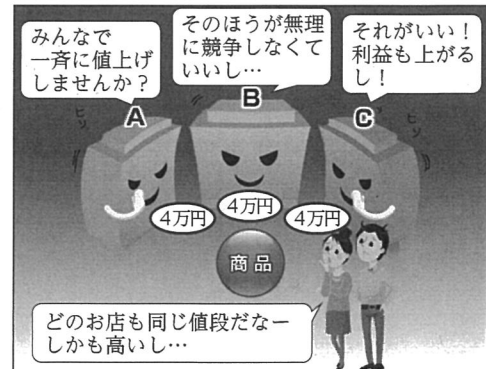
- ア a 円高 b 高く イ a 円高 b 安く
- ウ a 円安 b 高く エ a 円安 b 安く

(4) 次の□内は、POSシステムを導入する利点について、職場体験先の店長が健太さんに説明した内容である。□内の (X) に当てはまる言葉を、「販売」の語を用いて簡潔に書け。

このシステムでは、レジでバーコードを読み取ると、商品の精算ができるのと同時に、(X) ことができます。このシステムの活用により、商品の製造や仕入れを効率的に行うことができるため、利益が上がることにつながります。

(5) 市場経済のしくみに興味をもった健太さんは、政府の経済活動への関わりについて調べたところ、資料Ⅳを見つけた。資料Ⅳは、独占禁止法が規制する企業の行為の一つを示している。独占禁止法によってこのような行為を規制する目的を、資料Ⅳを参考にして、「競争」、「消費者」の語を用いて簡潔に書け。

[資料Ⅳ]



(公正取引委員会Webサイトより作成)

4

今年は、廃藩置県が行われてから150年目に当たる年である。直樹さんは、奈良県の行政区域の変化について、先生と話をした。次の□内は、その会話の一部である。各問いに答えよ。

直樹：A 古代より大和国と呼ばれていた奈良の地域が、廃藩置県により各藩が廃止され、後に奈良県となったことを知りました。県名から奈良が消えた期間もあったそうですね。

先生：奈良県は1876年にB 堺県に合併され、県名から奈良が消えました。その後、堺県も大阪府に合併され、奈良の地域は大阪府の一部になりました。財政面において、地方税の支出が大阪の地域に偏るなど、奈良の地域に不利な状況となり、奈良県の再設置を望む声が高まりました。その結果、1887年に再び奈良県が置かれ今日まで続いています。

直樹：奈良の地域に住む人々の暮らしをよくするには自治が行われることが大切であると、当時の人々は考えたのですね。私たちもこれからの奈良県をもっとよくするために、何ができるか考えようと思います。

先生：よいことですね。まずは、C 現在の奈良県の様子について、詳しく知ることから始めてはどうですか。

(1) 下線部Aには、大和国に都があった時期があり、その都である平城京には、絹や魚など地方の特産物が税として運び込まれた。このような特産物などを納める税を何をいうか。その名称を書け。

(2) 直樹さんは下線部Bの存在を知り、堺という地域に興味をもった。

① 中世における堺の説明として最も適切なものを、次のア～エから1つ選び、その記号を書け。

ア 守護を倒した一向一揆の拠点となった。 イ 元寇の際に、上陸を防ぐ石の防壁が築かれた。

ウ アイヌの人々と交易を行う館が築かれた。 エ 日明貿易の拠点となり、商人が力をもった。

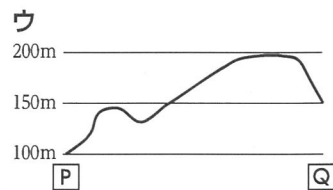
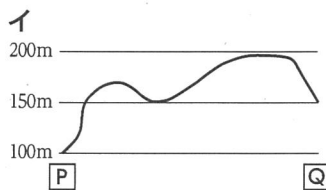
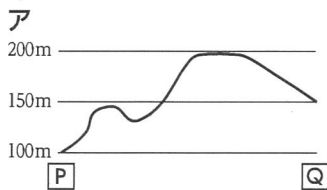
② 資料Iは、古代より堺と奈良の地域を結ぶ街道 [資料I]

付近の2万5千分の1地形図を拡大して示したものである。資料I中の土地は、おもにどのように利用されているか。最も適切なものを、次のア～エから1つ選び、その記号を書け。

ア 田 イ 果樹園
ウ 針葉樹林 エ 広葉樹林

問題のため一部加工した「竹内街道」付近の地形図

③ 資料I中のP—Qの断面図として、最も適切なものはどれか。次のア～ウから1つ選び、その記号を書け。



(3) 直樹さんは、下線部Cを知るために、奈良県の取り組みについて調べ、

メモにまとめた。次の□内は、そのメモの一部である。資料IIは、奈良県の総人口と15歳未満人口を示したものである。奈良県がメモのような取り組みを行う目的は何か。資料IIからわかる奈良県の課題に触れながら、「環境」の語を用いて簡潔に書け。

[資料II]

年	総人口(千人)	15歳未満人口(千人)
2005	1,421	197
2010	1,401	184
2015	1,364	170
2019	1,330	158

(総務省統計局「人口推計」より作成)

- ・「奈良県パパ産休プロジェクト」による企業等を対象とした研修ツールの作成
- ・児童預かり等を行う「ファミリー・サポート・センター」の運営等の支援
- ・奈良県住みよい福祉のまちづくり条例に基づく、公共施設における、子どもが利用しやすい手洗い器や授乳場所等の整備

一般選抜社会

問題の誤りの内容等

4 ページ 3 (2)に誤字 (「労働 (誤)」 → 「労働 (正)」)

6 ページ 4 (1)に誤字 (「何を (誤)」 → 「何と (正)」)